

E timpul să petrecem!



Franklin știe numerele. Și-i reușesc și adunările.

Acum învață să le scadă, dar fără voi, cum să porceadă?

Toți sunt aici ca să petreacă – să fie oare tort pentru o lume-ntreagă?

Ajutați la numărare și-nlăturați orice eroare!


Parada coifurilor

E timpul să sărbătorim ziua de naștere a lui Franklin!


Sunt o mulțime de coifuri din care puteți alege. Completați aceste operații de scădere pentru ca fiecare invitat să fie pregătit.



 **numărul care arată câte au mai rămas.**



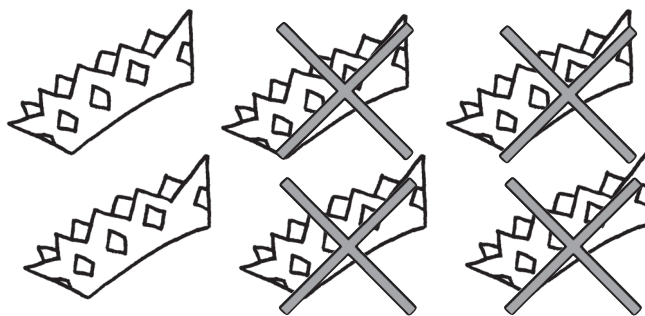
$$4 - 1 = \underline{\text{3}}$$





$$3 - 2 = \underline{\quad}$$



$$5 - 3 = \underline{\quad}$$



$$6 - 4 = \underline{\quad}$$

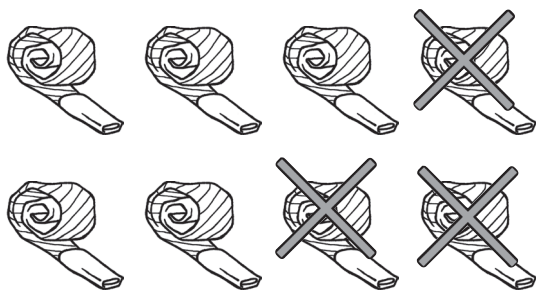
-  observați că scăderea implică înlăturarea
-  folosind imagini, rezolvați operații de scădere al căror descăzut este un număr mai mic sau egal cu 6

Povești cu fluiere pentru petrecere

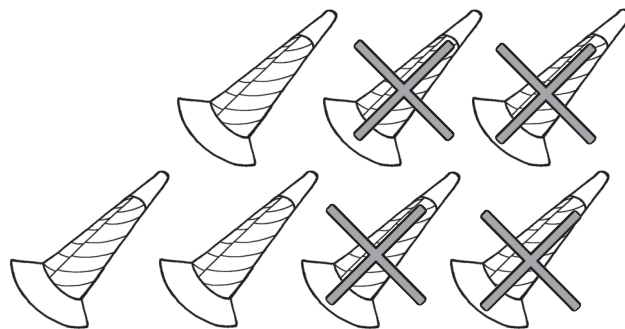
Iepurilă ajută la distribuirea fluierelelor pentru petrecere. Completați aceste operații de scădere pentru a-l ajuta să afle câte au mai rămas.




 **2 numărul care arată câte au mai rămas.**




$$8 - 3 = \underline{5}$$





$$7 - 4 = \underline{\quad}$$



$$10 - 4 = \underline{\quad}$$



$$9 - 5 = \underline{\quad}$$

 observați că scăderea implică înlăturarea unuia sau mai multor obiecte
 folosind imagini, rezolvați operații de scădere al căror descăzut este un număr mai mic sau egal cu 10

Petrecere cu bunătăți

Mmm! Sunt o mulțime de gustări delicioase la petrecerea lui Franklin.

Scrieți câteva operații de scădere prin care să arătați câte bunătăți a mâncat Ursache.



2 **operația de scădere și numărul care arată câte au mai rămas în fiecare imagine.**





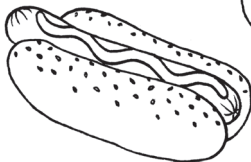
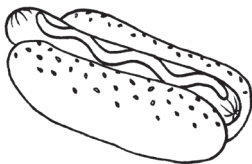
3

-

1


=

2



-

=



-

=

- ✓ scrieți operații de scădere pentru a descrie ilustrațiile date
- ✓ învățați și aplicați noțiunile de bază ale scăderii (unde descăzutul este un număr mai mic sau egal cu 5) folosind imagini


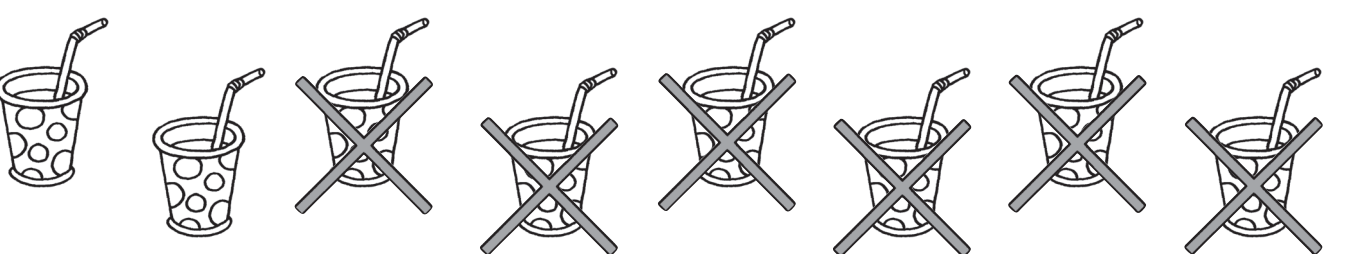

Punci la petrecere

De asemenea, la petrecere se găsește puncti din belșug.

Scrieți câteva operații de scădere prin care să arătați cât a băut fiecare invitat.



 2 **operația de scădere și numărul care arată câte au mai rămas în fiecare imagine.**

	$\underline{\quad}$ - $\underline{\quad}$ = $\underline{\quad}$
	$\underline{\quad}$ - $\underline{\quad}$ = $\underline{\quad}$
	$\underline{\quad}$ - $\underline{\quad}$ = $\underline{\quad}$

- ✓ scrieți operații de scădere pentru a descrie ilustrațiile date
- ✓ învățați și aplicați noțiunile de bază ale scăderii (unde descăzutul este un număr mai mic sau egal cu 10) folosind imagini